

湖風祭コンテスト（地理部門）

○注意事項

- ・開催期間は湖風祭期間中の7/6~7/11であり、7/11の23:59まで解答を受け付けます。
- ・問題は大問3つ、概ね難易度が低い順になっています。
- ・大問1はいろいろな問題、大問2は日本の地域、大問3は地理オリンピックに挑戦となっています。
- ・解答は調べても良いです。
- ・配点は非公表ですが、記述問題の割合が大きいです。
- ・解答は修正可能で期間中は何回でも解答して良いです。
- ・なお、最後に提出した解答が採点されます。
- ・解答の提出はGoogle フォームで行うか、紙に書いて30940の渡邊まで提出してください。
- ・1年、2年、3年別々に採点します。
- ・景品は各学年で1番の人（計3人）と、特別賞として独断で面白い（興味深い）解答をされた方1名にも景品をプレゼントします。



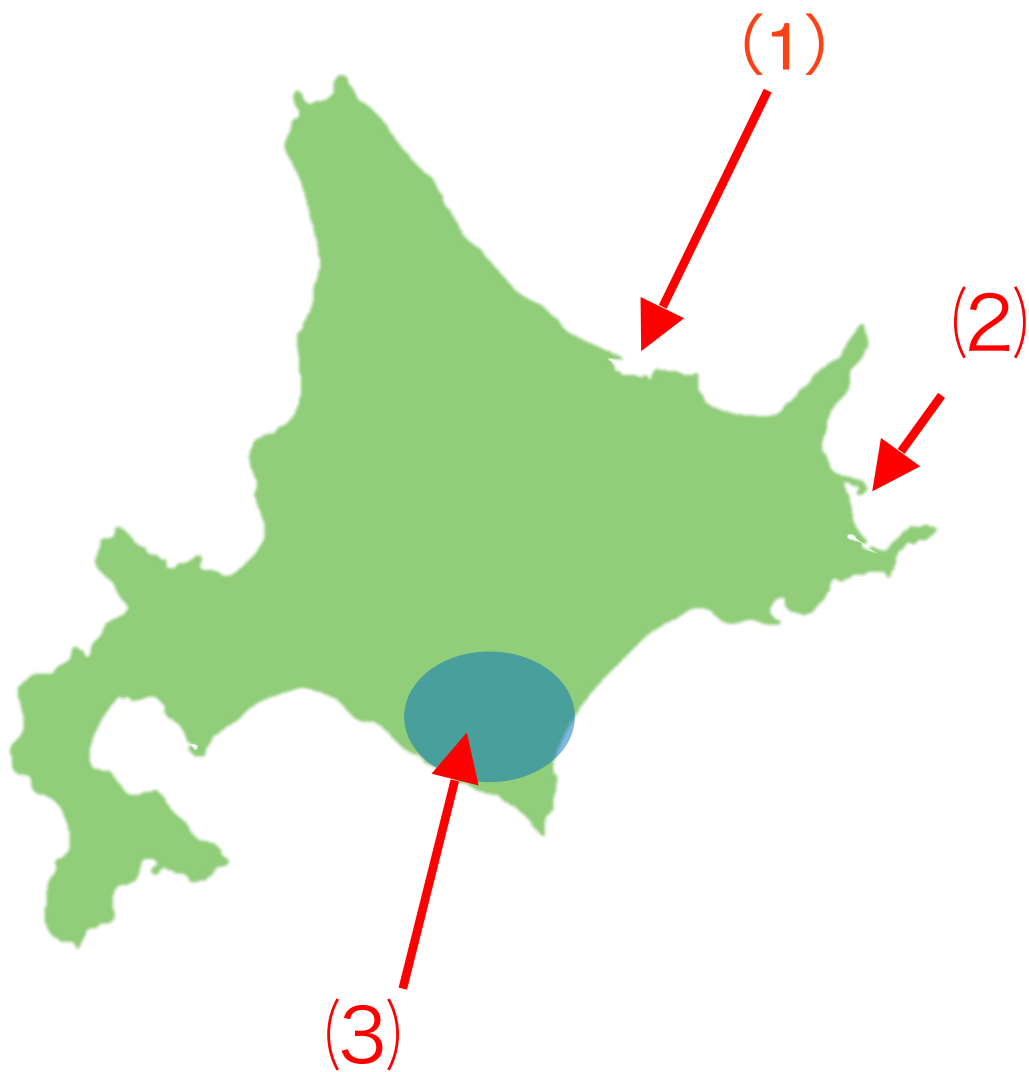
作問担当者: 渡邊慶一

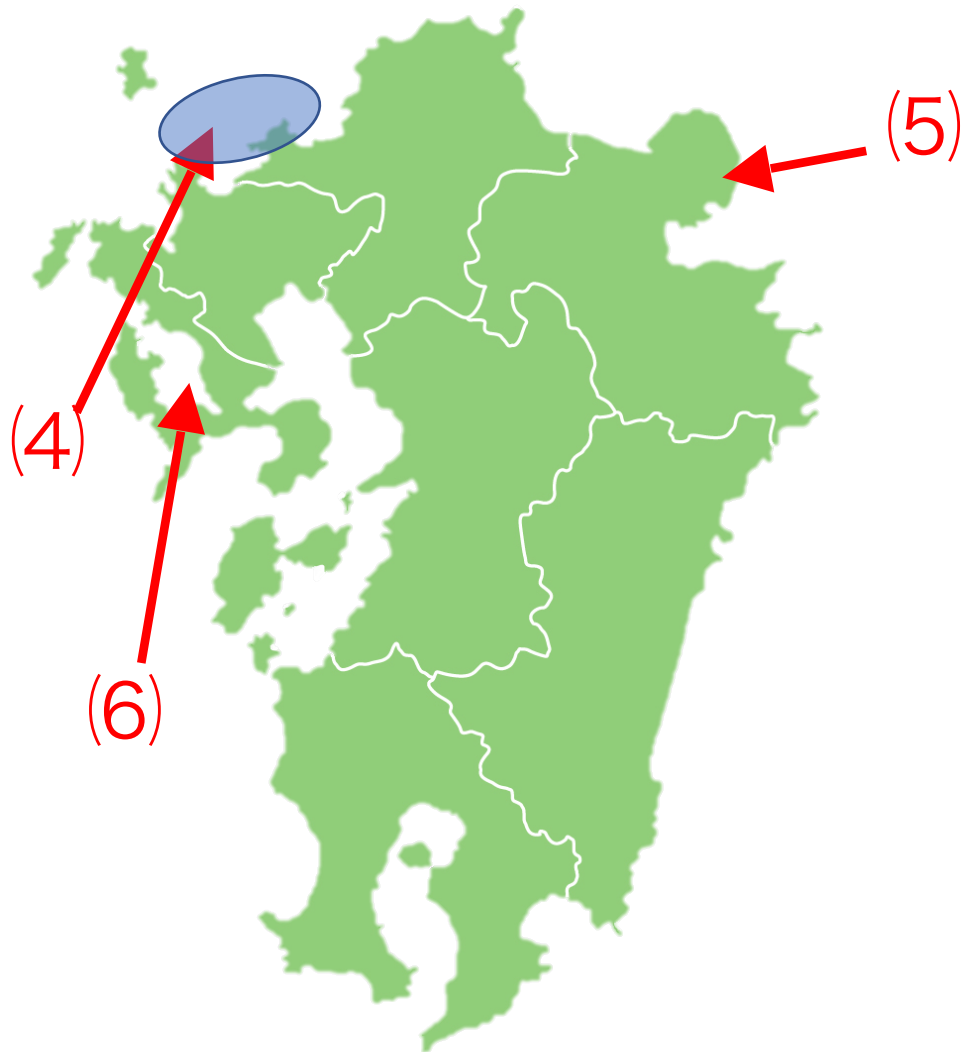
こんにちは！30940の渡邊と申します。地理について、軽く自己紹介をすると、膳所初の地理オリンピック2次試験に出場しています。今回このように作問を依頼されてとても嬉しく思います。ただの地理好きがこのような場にいかされるとは思いませんでした。さて、湖風祭はいかがお過ごしでしょうか。この湖風祭コンテストは、勉強が得意な人が輝ける場として設けられたものです。地理好きはもちろん、景品目当ての方も是非！！誰でも気軽にご参加下さい！！

① いろいろな問題

1. 熊本県の阿蘇山、北海道の摩周湖などで有名な火山の噴火によってできた凹地をなんというか。
2. 中国が、外国の資本や技術の取り入れを行うために、海岸地域に設けた地区をまとめてなんというか。
3. チリ南部、イギリス北部などに見られる、氷河によって地面がけずられ、U字谷が形成されたところに海水が入り形成された海岸をなんというか。
4. インドネシアなどの年中暖かい地域では、一年に同じ作物を2回作るが、その農業形態をなんというか。
5. 滋賀県の湖を二つ答えよ。
6. 水産物の安定した生産や資源保護のため、日本各地で行われている取り組みのひとつに栽培漁業がある。では、栽培漁業とはどのようなものか説明せよ。
7. スラム街はどのような場所に形成されるか。「都市部」という語を用いて簡単に15字程度で説明せよ。
8. マダガスカルは東西で気候が大きく違うことで知られているが、マダガスカルの気候について、地形や風についての説明を交えて述べよ。
9. ラテンアメリカのブラジルとアルゼンチンでは、国民の文化的、民族的特色が大きく異なる。どのように違うのか、両国を比較して、説明せよ。

②日本の諸地域





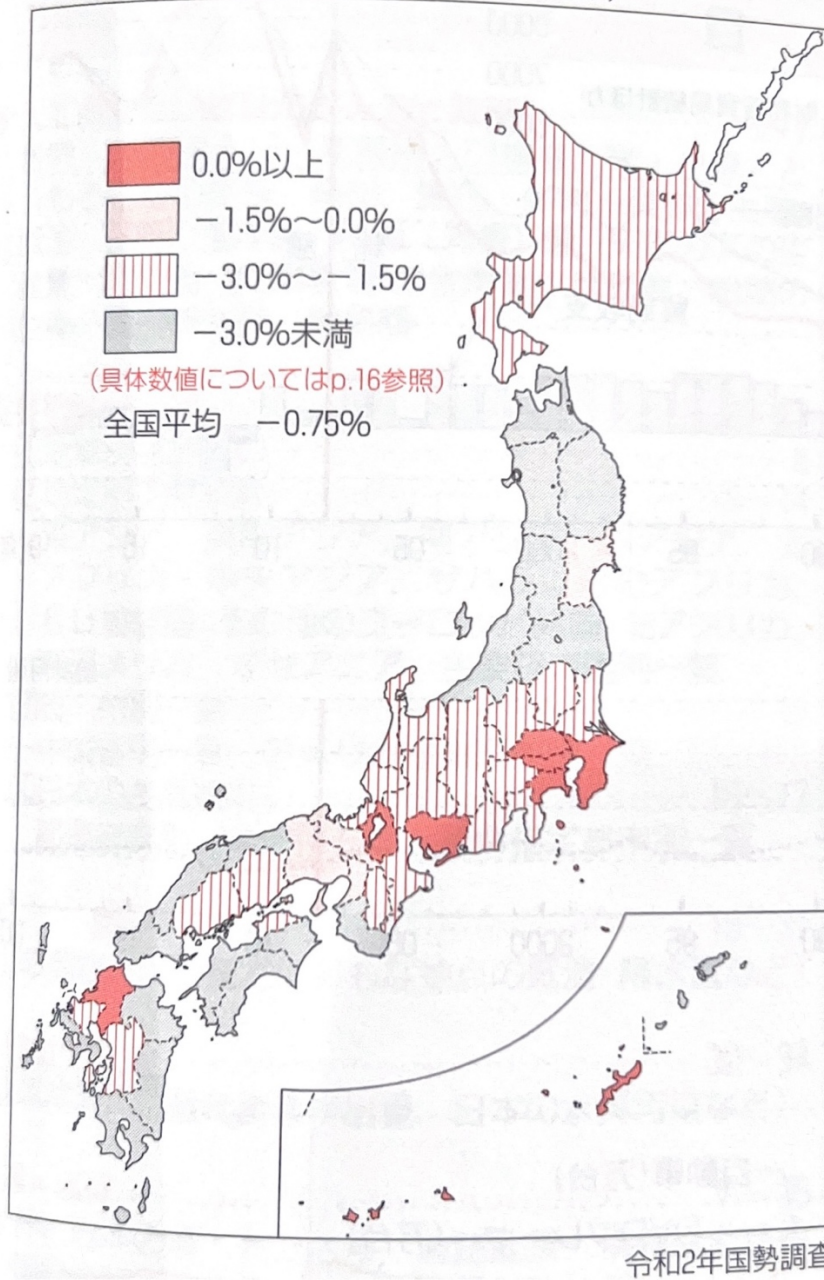
・(1)~(6)の地域名を答えよ。
ただし、(1)は湖、(2)(5)は半島、(3)は平野、(4)は海域（灘）、
(6)は湾を指している。

③地理オリンピックに挑戦



(1) 上の写真は北海道中標津町の航空写真である。碁盤のような線は人工的な森林となっている。では、何故このように森林が植えられたか説明せよ。

① 都道府県別人口増減率(2015-20年)



(2) 上図を見て、日本の人口増加について、どのような地域において増加、減少しているか、できるだけ具体的に説明せよ。

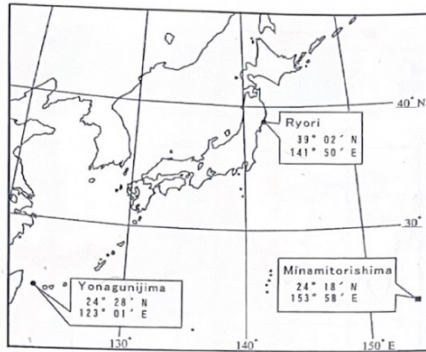


図 B 3

(『気象集誌 第2輯78巻5号』より)

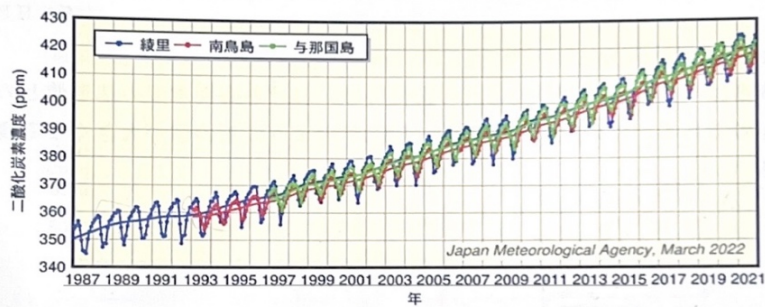


図 B 4

(気象庁HPより)

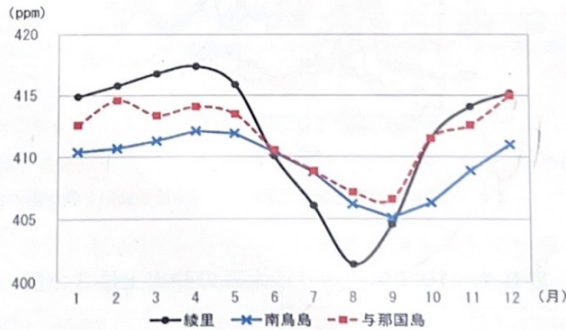
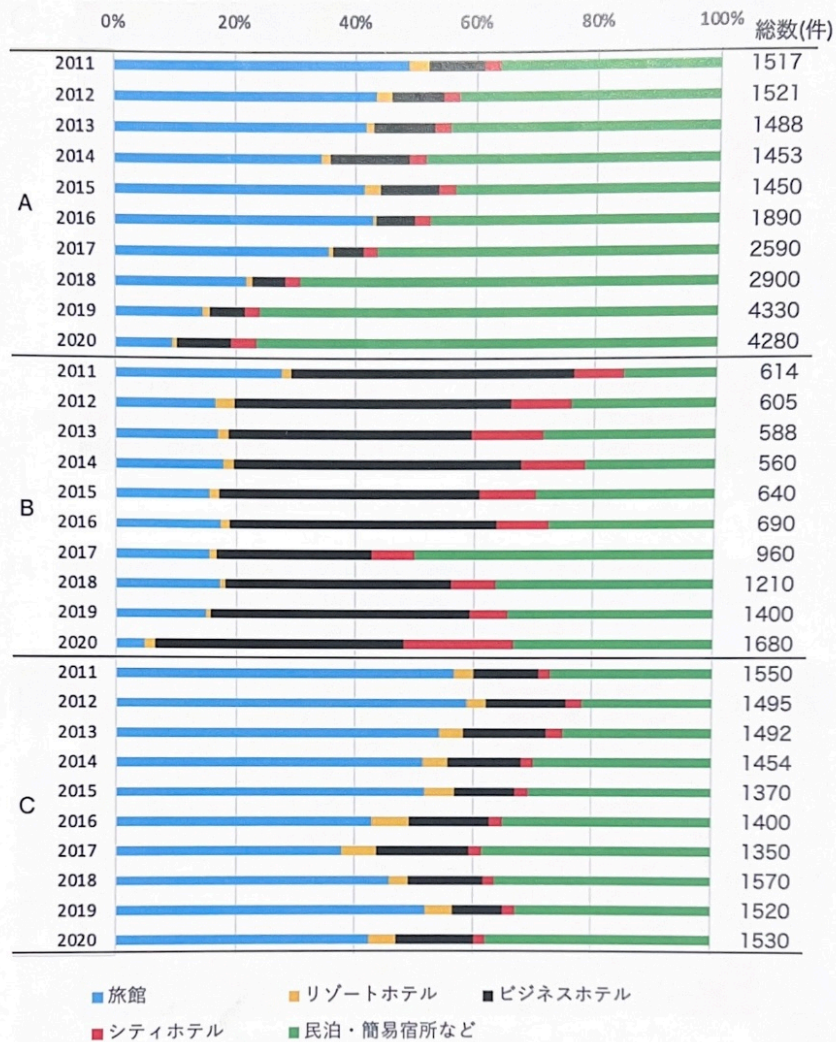


図 B 5

(気象庁HPより作成)

(3) 図B3は日本における二酸化炭素濃度の観測地点である綾里（岩手）、南鳥島、与那国島を示している。また、図B4は3地点における二酸化炭素の推移を、図B5は2018年における3地点の月平均値を示している。図B5を見て、①「綾里と他の二地点」、②「南鳥島と与那国島」をそれぞれ比較して読み取れることを述べよ。また、そのような傾向が見られる理由をそれぞれ述べよ。



図C5 大阪府・京都府・兵庫県の宿泊施設

(観光庁「宿泊旅行統計調査」より)

(4) 図C5は大阪府、京都府、兵庫県の宿泊施設の割合を種別に分類したものの推移である。このうち、大阪府と京都府に当てはまるものをA~Cから選び、他府県と比べ、それぞれの特徴に留意して理由を述べよ。